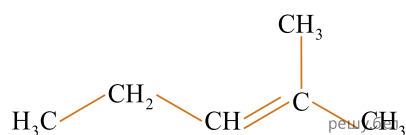
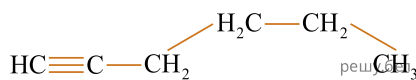


Установите соответствие между формулой органического вещества и названием его структурного изомера.

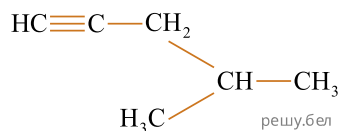


- 1 — гексин-3
- 2 — 2-метилпентен-2
- 3 — 3-метилпентан
- 4 — гексен-2
- 5 — гептин-2

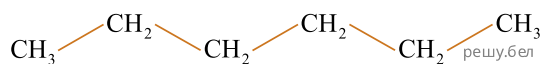
А)



Б)



В)



Г)

Ответ запишите в виде сочетания букв и цифр, соблюдая алфавитную последовательность букв левого столбца, например: АЗБ1В2Г2. Помните, что некоторые данные правого столбца могут использоваться несколько раз.